



UNIVERSITI TUN HUSSEIN ONN MALAYSIA

**PEPERIKSAAN AKHIR
SEMESTER II
SESI 2010/2011**

NAMA KURSUS : PENGURUSAN KEDIAMAN
KOD KURSUS : BBL 20302
PROGRAM : SARJANA MUDA PENDIDIKAN
TEKNIK DAN VOKASIONAL
TARIKH PEPERIKSAAN : JUN 2011
JANGKA MASA : 2 JAM 30 MINIT

ARAHAN :
(1) JAWAB SEMUA SOALAN DARI BAHAGIAN A DAN DUA SOALAN DARI BAHAGIAN C
(2) BUKU SOALAN DAN BUKU JAWAPAN HENDAKLAH DIIKAT BERSAMA DAN DISERAHKAN PADA AKHIR PEPERIKSAAN INI

NAMA :
NO MATRIK :
NAMA PENSYARAH : *Shaida Hanim*
SEKSYEN :

KERTAS SOALAN INI MENGANDUNGI (13) MUKA SURAT

BAHAGIAN A

JAWAB SEMUA SOALAN DALAM BAHAGIAN A

S1 Faktor yang mempengaruhi pemilihan dalam pembelian tempat kediaman adalah seperti yang dinyatakan di bawah kecuali;

- A Estetika.
- B Keperluan.
- C Ekstravaganza.
- D Keselamatan dan Kesihatan.

S2. Apakah fungsi ruang tersebut di atas ?

- A Menyimpan barang – barang
- B Melakukan kerja pembersihan dan penyenggaraan.
- C Melakukan aktiviti membersihkan dan mengosok pakaian.
- D Melakukan aktiviti menyediakan, memasak dan menyimpan makanan.


S3. Tempat kediaman perlu memenuhi keperluan keluarga kecuali _____

- A. berteduh dari hujan dan panas.
- B. berniaga barangan keperluan harian.
- C. berlindung daripada bencana dan penjenayah.
- D. berinteraksi dan melaksanakan aktiviti harian.

S4. Perkara yang perlu diberi perhatian semasa memilih tempat kediaman bagi memenuhi keperluan dalam kitaran keluarga adalah:

- A. Saiz keluarga.
- B. Peringkat kitaran hidup ahli.
- C. Keperluan status dan imej yang mewah.
- D. Keperluan khas ahli yg cacat atau tua dan uzur.

Rajah S5 adalah sejenis ruang di rumah kediaman.



Rajah S5

- S5. Apakah fungsi ruang tersebut ?
- Tempat menyimpan barang - barang.
 - Berehat dan berinteraksi bersama keluarga.
 - Tempat berehat dan di mana letaknya ' wardrobe '.
 - Tempat melakukan aktiviti- aktiviti penyelenggaraan.
- S6. Pengudaraan yang baik akan menjamin keselesaan dan kesihatan ahli seperti:
- Mengelakkan bau dan memberi udara segar.
 - Menerbitkan suasana harmoni dan nyaman.
 - Menjauhi jangkitan penyakit dan meningkatkan tahap kesihatan.
 - Menjalinkan siratulrahim di antara ahli keluarga dan masyarakat.
- S7. Pencemaran persekitaran boleh diklasifikasikan kepada tiga jenis pencemaran kecuali _____
- pencemaran Air.
 - pencemaran Otak.
 - pencemaran Bunyi.
 - epncemaran Udara.
- S8. Perkara yang perlu diberi perhatian semasa memilih tempat kediaman bagi memenuhi keperluan dalam kitaran keluarga adalah:
- Saiz keluarga.
 - Peringkat kitaran hidup ahli.
 - Keperluan status dan imej yang mewah.
 - Keperluan khas ahli yg cacat atau tua dan uzur.


S9. Pernyataan berikut adalah berkaitan dengan fungsi ruang di tempat kediaman.

- Melakukan aktiviti pembersihan dan penyenggaraan
- Tempat mendobi

Ruang tersebut adalah _____

- A. ruang tamu
- B. ruang kerja..
- C. ruang social.
- D. ruang persendirian.

S10. Rajah S10 di bawah adalah sejenis ruang di rumah kediaman.



Rajah S10

Apakah fungsi ruang tersebut adalah seperti yang dinyatakan kecuali?

- A. Melayan tetamu.
- B. Menjamu selera.
- C. Berkumpul ahli keluarga.
- D. Beristirehat sambil menonton televisyen.

S11. Langkah-langkah mengatasi pencemaran udara termasuklah _____

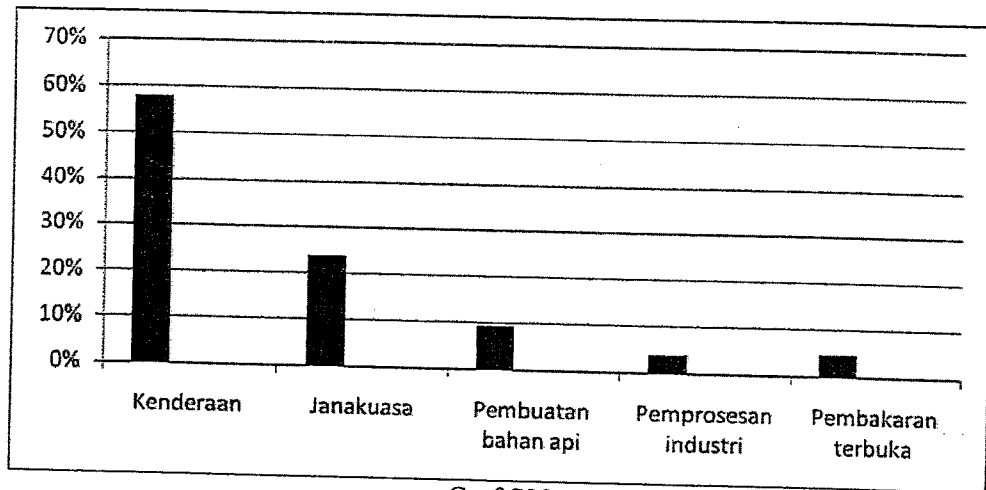
- A. penampalan ozon.
- B. penggunaan kenderaan elektrik/solar.
- C. kitarsemula.
- D. semua di atas.

- S12. Peranan keluarga dalam mengekalkan persekitaran yang bersih dan sihat dengan mengamalkan perkara di bawah kecuali _____
- A. pengurusan sampah dengan betul.
 - B. mengamalkan pembakaran terbuka.
 - C. mengamalkan 3R (*Reduce, Reuse & Recycle*).
 - D. mengekalkan kebersihan didalam dan luar rumah kediaman.
- S13. Apakah manfaatnya anda menggunakan semula bahan terbuang?
- A. Mengumpul bahan lama untuk disimpan.
 - B. Mengurangkan kos pengurusan sampah.
 - C. Tidak membuang sampah merata-rata tempat.
 - D. Menggunakan sampah berkali-kali sebelum dibuang.
- S14. Dalam program kitar semula, tong sampah yang berwarna jingga adalah khas untuk _____
- A. kertas.
 - B. plastik dan aluminium.
 - C. bahan buangan daripada kaca.
 - D. semua jenis-jenis sampah sarap.
- S15. Berikut di bawah adalah tumber perudaraan untuk rumah kediaman kecuali _____
- A. tingkap.
 - B. kipas.
 - C. kekisi.
 - D. kincir angin.
- S16. Bagaimanakah anda boleh menjimatkan penggunaan air?
- A. Menggunakan air paip sesuka hati.
 - B. Memasuh kereta dengan menggunakan air dari pili bomba.
 - C. Memasuh kereta dengan menggunakan air yang ditakung dalam bekas.
 - D. Memasuh kereta dengan menggunakan air paip yang dibuka berterusan.

- S17. Apakah bahan-bahan buangan yang berikut dibawah ini tidak mudah lupus dan tidak dapat diuraikan bagi persekitaran?
- A. Dedaun kering.
 - B. Pembungkus plastik.
 - C. Pembungkusan kertas
 - D. Kotak kayu dan rak chipboard.
- S18. Bagaimana anda dapat membantu menjayakan program penggunaan semula?
- A. Membeli semua barangan terpakai walaupun tidak perlu.
 - B. Membeli barangan terpakai apabila perlu.
 - C. Menyimpan sahaja barangan yang tidak digunakan.
 - D. Membuangkan semua jenis barangan di tempat yang sama.
- S19. Bagaimanakah anda dapat mengurangkan penggunaan sumber tenaga?
- A. Menggosok sehelai baju setiap hari.
 - B. Menggosok baju untuk keperluan seminggu.
 - C. Menggosok baju apabila ingin memakai pakaian.
 - D. Semua yang dinyatakan di atas.
- S20. Berikut di bawah adalah kesan daripada penggunaan elektrik kecuali _____
- A. Merubah gaya hidup.
 - B. Keselesaan.
 - C. Menjimatkan tenaga dan masa.
 - D. Meningkatkan ~~menjimatkan~~ kos belanja.
- S21. Berikut adalah jenis-jenis lantai untuk rumah kediaman kecuali _____
- A. simen
 - B. mozek
 - C. terrazo
 - D. asbestos

Soalan S22 adalah berdasarkan gambarajah Graf S22.

Graf S22 di bawah ini adalah menunjukkan peratusan laporan alam sekitar daripada Utusan Pengguna 2001. Peratusan tersebut menunjukkan kadar pencemaran alam.



Graf S22

S22. Apakah jenis pencemaran tersebut?

- A. Pencemaran bunyi.
- B. Pencemaran udara.
- C. Pencemaran air.
- D. Pencemaran bau.

S23. Dalam mengaplikasikan keperluan ergonomik dalam ruang kediaman anda seharusnya mempraktikkan perkara seperti di bawah ini kecuali;

- A. Alatan dan bahan hendaklah disimpan di tempat yang hendak digunakan.
- B. Alatan dan bahan hendaklah disimpan supaya senang dilihat dan dicapai.
- C. Alatan dan bahan bolehlah disimpan di mana juga asalkan anda rasa bahagia.
- D. Alatan dan bahan yang hendak digunakan dalam satu proses perlu disimpan bersama.

S24. Antara berikut yang manakah mempengaruhi keselesaan sebuah tempat kediaman?

- A. Mempunyai banyak ruang.
- B. Kelengkapan rumah yang terkini.
- C. Susun atur yang kemas dan selamat.
- D. Pemilihan kawasan tempat kediaman

- S25.
- | |
|---|
| <ul style="list-style-type: none"> • Dilakukan hujung minggu • Mengambil masa yang lebih lama • Pembahagian tugas antara ahli keluarga. • Mengelap tingkap dan perabot,bersih bilik mandi dan tandas, |
|---|

Ciri yang dinyatakan diatas adalah merupakan _____

- A. pembersihan berkala
- B. pembersihan harian
- C. pembersihan mingguan
- D. pembersihan tahunan

S26. Selain daripada bersesuaian dengan ruang, ciri lantai yang baik harus:

- I tahan lasak
- II tidak licin
- III rata dan cantik
- IV mudah dibersihkan.

- A I dan II sahaja.
- B II dan III sahaja.
- C I, II dan III sahaja.
- D I, II, III dan IV.

S27. Pengudaraan adalah _____

- A. proses pembuangan gas toksid.
- B. proses pemanasan udara untuk iklim sejuk pada musim salji.
- C. proses penggantian udara yang panas dengan udara yang segar dan nyaman.
- D. proses penggantian udara sejuk dengan udara panas untuk penyimpanan barang.

Soalan S28-S30 berdasarkan kepada jadual seperti berikut:

A.	<ul style="list-style-type: none"> • Warna ini menjadikan ruang kecil kelihatan Besar, • Siling yg rendah kelihatan tinggi • Mewujudkan suasana ceria dan cerah
B.	<ul style="list-style-type: none"> • Warna ini menjadikan ruang kecil kelihatan luas/ besar, : • Siling yg rendah kelihatan tinggi • Menjadikan suasana lebih sejuk, tenang dan harmonis
C.	<ul style="list-style-type: none"> • Warna ini menjadikan ruang besar kelihatan kecil • Siling tinggi kelihatan rendah • Suasana ruang tenang, redup dan muram

S28. Ciri-ciri bagi warna gelap. C.

S29. Ciri-ciri bagi warna terang. A

S30. Ciri-ciri bagi warna lembut. B

S31. Penggunaan alatan hiasan yang manakah menjadikan ruang yang kecil kelihatan lebih luas?

- Cermin dinding.
- Langsir berwarna gelap.
- Hiasan tumbuhan yang besar.
- Perabot yang tinggi dan besar.

S32. Apakah lampu yang menghasilkan pencahayaan am?

- Lampu meja.
- Lampu siling
- Lampu dinding
- Lampu pendafloor.

- S33. Membaca buku sehingga lewat malam. Apakah jenis lampu yang sesuai digunakan?
- A. Lampu meja.
 - B. Lampu pendafloor.
 - C. Lampu hiasan siling.
 - D. Lampu hiasan dinding.
- S34. Antara berikut yang manakah boleh menyediakan pengudaraan yang baik untuk sebuah rumah kediaman.
- A. Saiz dan kedudukan tingkap.
 - B. Saiz dan kedudukan pintu.
 - C. Saiz dan kedudukan kekisi.
 - D. Saiz dan kedudukan kipas.
- S35. Manakah di antara pernyataan yang berikut adalah tidak benar?
- A. Peti sejuk mestilah diletakkan jauh dengan meja kerja.
 - B. Peti sejuk mestilah diletakkan berjauhan dengan dapur.
 - C. Peti sejuk mestilah diletakkan berdekatan dengan meja kerja.
 - D. Meja kerja mestilah diletakkan berhampiran dengan paip dan sinki.
- S36. Apakah yang boleh dilakukan untuk meningkatkan pengudaraan bagi bilik yang tidak mempunyai tingkap yang mencukupi?
- A. Membina pintu yang besar.
 - B. Memasang kaca pada siling.
 - C. Memasang alat penyaman udara.
 - D. Mengehadkan penggunaan perabot.
- S37. Antara berikut warna manakah boleh memberi suasana ruang yang sejuk, tenang dan selesa?
- A. Coklat.
 - B. Merah.
 - C. Biru Tua.
 - D. Hijau Muda.

S38. Mengapakah lampu pendafloor sesuai dipasang di ruang dapur?

- A. Menjimatkan kos elektrik.
- B. Cahayanya sangat terang.
- C. Tidak menyilaukan mata ketika bekerja.
- D. Cahayanya menerangi seluruh ruang tanpa halangan.

S39. Apakah ciri-ciri lantai yang baik?

- I Rata.
- II Licin.
- III Cantik.
- IV Tahan Lasak.

- A. I, II dan III.
- B. I, II dan IV.
- C. I, III dan IV.
- D. II, III dan IV.

S40. Pilih cara yang betul tentang cara menghias tempat kediaman.

- A. Pilih hiasan yang menjadi kegemaran setiap ahli keluarga.
- B. Hiasan tambahan yang banyak akan meningkatkan keceriaan ruang.
- C. Jenis dan bentuk lampu akan memberi kesan kepada seni hiasan ruang
- D. Pilihan warna hiasan yang pelbagai menjadikan suasana ruang lebih harmoni.

BAHAGIAN C

JAWAB DUA SOALAN SAHAJA.

- S1. Air ialah pelarut universal kerana banyak jenis bahan kimia larut di dalamnya. Sifat air yang mudah melarut menyebabkan ia senang berlaku pencemaran. Pencemaran boleh menyebabkan ianya tidak selamat untuk kehidupan air dan manusia. Pencemaran boleh terjadi disebabkan samaada dari segi biologi, kimia ataupun fizikal.
- Nyatakan kegunaan air dalam kehidupan seharian manusia.
 - Huraikan dengan ringkas ketiga-tiga penyebab kepada pencemaran tersebut.
 - Nyatakan kesan daripada pencemaran tersebut.
 - Bincangkan bagaimana masyarakat dapat mengawal pencemaran air ini daripada berlaku.

(20 markah)

- S2. Pencahayaan yang mencukupi amat penting untuk rumah kediaman Kedudukan dan saiz tingkap serta lampu yang sesuai penting untuk memberi pencahayaan yang maksimum Sumber cahaya semulajadi seperti matahari, bulan dan lampu, pelita, lampu suluh dll
- Jelaskan tentang tiga aspek pencahayaan di rumah kediaman.
 - Nyatakan hubungan pencahayaan dengan skema warna dalam rumah kediaman.
 - Bincangkan 3 jenis skema warna yang terdapat dalam ruang rumah kediaman.

(20 markah)

- S3. **Rumah hijau**, atau **rumah kaca** ialah satu bangunan yang diperbuat daripada kaca atau plastik yang membolehkan penanaman yang terlindung dan terkawal. Haba dari cahaya matahari yang menembusi strukturnya yang lutsinar memanaskan tumbuh-tumbuhan dan tanah di dalamnya. Selain itu, udara di dalamnya turut dipanaskan dan kekal tanpa boleh terlepas keluar daripada bangunan ini.

- Nyatakan 2 faktor kesan rumah hijau
- Nyatakan kesan rumah hijau ke atas bumi
- Bincangkan tentang pemanasan global.
- Bincangkan bagaimana peranan keluarga dalam membantu menurunkan kadar pemanasan global tersebut.

(20 markah)